



**Числа от 1 до 20.
Нумерация**



**Математика
1 класс
Тест 5**



Вопрос № 1

Какое из данных чисел двузначное?

A	B	C	D
5	7	9	13

Вопрос № 2

Найди закономерность и продолжи ряд чисел
10, 11, 13, 16, ...

A	B	C	D
19	20	18	17

Вопрос № 3

Найди число, в котором 1 десяток и 5 единиц.

A	B	C	D
15	5	51	6

Вопрос № 4

В каком числе количество единиц на 1 больше количества десятков?

A	B	C	D
11	12	13	14

Вопрос № 5

Найди верное неравенство.

A

$$4 \text{ см} > 7 \text{ см}$$

B

$$8 \text{ см} < 10 \text{ см}$$

C

$$1 \text{ дм} < 1 \text{ см}$$

D

$$11 \text{ см} > 1 \text{ дм } 2 \text{ см}$$

Вопрос № 6

На опушке леса росло 5 лип и 4 дуба, а елей столько, сколько лип и дубов вместе. Сколько елей росло на опушке леса?

A

8

B

10

C

9

D

11

Вопрос № 7

У Пети 3 марки, а у Васи на 6 марок больше.
Сколько марок у Васи?

A	B	C	D
8	10	9	11


Вопрос № 8

На зиму бабушка заготовила 10 банок варенья. Из них 4 банки вишневого варенья, а остальные с клубничным вареньем. Сколько банок с клубничным вареньем заготовила бабушка?


A	B	C	D
7	6	5	4

Вопрос № 9


Сколько треугольников на этом рисунке?




3



4



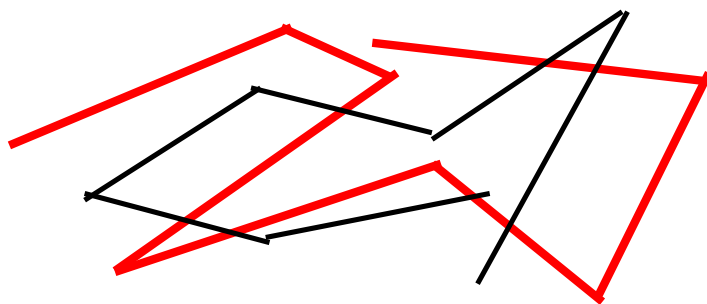
5



6

Вопрос № 10

На сколько меньше звеньев в чёрной ломаной, чем в красной?



A

4

B

3

C

2

D

1

Литература:

Фефилова Е.П., Мокрушина О.А., Дмитриева О. И.
Поурочные разработки по математике: 1 класс. –
4-е изд., испр. и доп.- М.: ВАКО, 2009.

Источники:

<http://puzkarapuz.org/81464-ramka-veselaya-matematika.html>-рамка